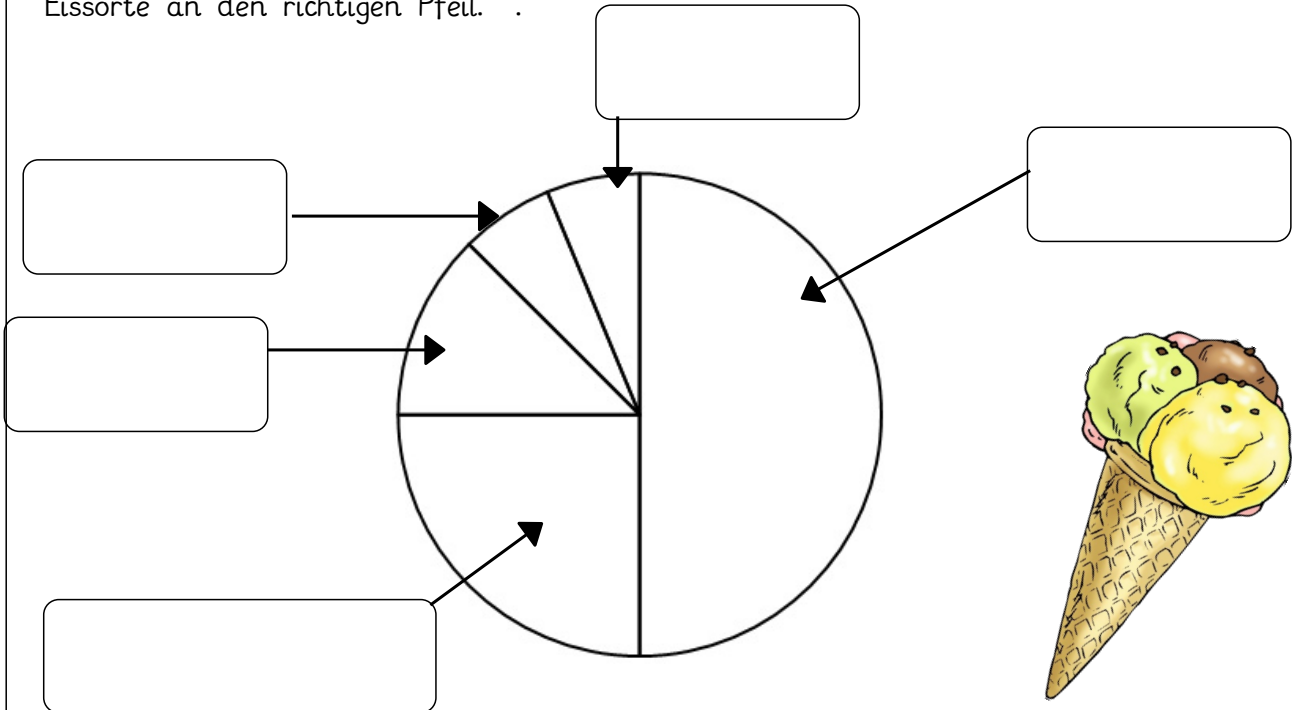




3 Aufgabe:

Ordne am Kreisdiagramm die Eissorten passend zu. Schreibe dazu die Eissorte an den richtigen Pfeil.



| Eissorte | Vanille | Schokolade | Erdbeere | Wald- meister | Nuss | Erdbeere |
|---------------------|---------|------------|----------|------------------|------|----------|
| Verkaufte Kugeln | 120 | 60 | 30 | 15 | 15 | 0 |

Welche Eissorte ist am beliebtesten?

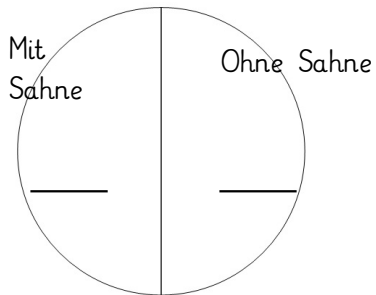
Welche Eissorte ist am unbeliebtesten?

Welche Eissorten werden gleich oft gekauft?

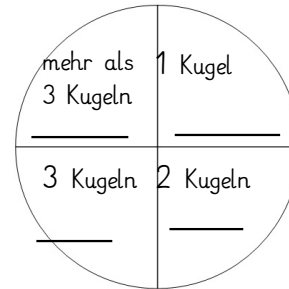
und

Trage die passenden Zahlen ein.

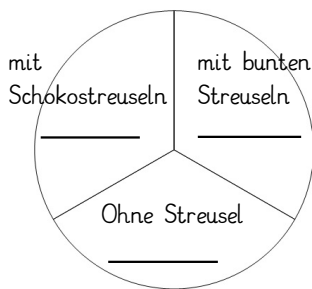
WICHTIG: Der ganze Kreis ist immer, was insgesamt verkauft wurde.



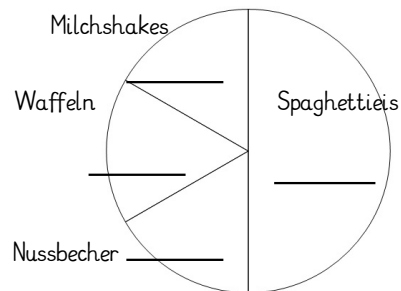
insgesamt 140 Eisbecher



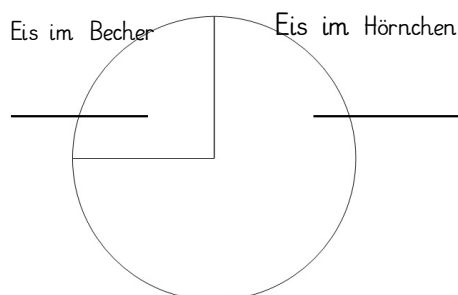
insgesamt 200 Eisbecher



insgesamt 120 Eisbecher



insgesamt 180 Bestellungen



insgesamt 200 Bestellungen

